

SREDA, 16. 12. 2020

SLOVENŠČINA ČIGAVO JE KAJ? (2 URI)

POGLEJ SI PREDSTAVITEV NA SPLETNI STRANI ŠOLE.



PO OGLEDU NADALJUJ Z DELOM V DELOVNEM ZVEZKU.

SDZ 1, STRAN 58

ČIGAVO JE KAJ? 

1. OGLED SI FOTOGRAFIJE IN PREBERI.

 MAMINO KOLO	 OČKOV LOPAR
 LUKOVE KOCKE	 MATEJEVA KNJIGA
 EMIN NAHRBTNIK	

TETA JE KUPILA TORBO. ČIGAVA JE TORBA?
STRIC NOSI OČALA. ČIGAVA SO OČALA?
JANJA IMA ŽOGO. ČIGAVA JE ŽOGA?
BABICA IMA KLOBUK. ČIGAV JE KLOBUK?

1. NALOGA

OGLED SI FOTOGRAFIJE IN PREBERI.

USTNO ODGOVORI NA VPRAŠANJA.

SDZ 1, STRAN 59

2. NAPIŠI, ČIGAVO JE KAJ.		
OČKA		OČKOV AVTO
SOSED		
BRAT		
MAMA		
TETA		
SESTRA		
BABICA		
DEČEK		

3. V POVEDIH UPORABI BESEDE IZ TRETJEGA STOLPCA.

2. NALOGA

NAPIŠI, ČIGAVO JE KAJ. PAZI NA PRAVILEN ZAPIS: **OČKOV AVTO**
SOSEDOV KUŽA
BRATOVO KOLO

3. NALOGA

V ZVEZEK SLOVENŠČINE NAPIŠI NASLOV Z RDEČO BARVICO **ČIGAVO JE KAJ?**
NAPIŠI POVEDI. V NJIH UPORABI BESEDE IZ TRETJEGA STOLPCA.

PRIMERI: **SOSED MARKO OBČUDUJE OČKOV AVTO.**
SOSEDOV KUŽA JE RJAVE BARVE.
BRATOVO KOLO JE V GARAŽI.

UČENCI, KI OBISKUJETE DOPOLNILNI POUK LAHKO NAPIŠETE LE 4 POVEDI.

MATEMATIKA



NEZNANI ČLEN - IŠČEM ODŠTEVANEC

$$11 - \underline{6} = 5$$

ODPRI DZ – MAT, STR. 55 IN POZORNO POSLUŠAJ RAZLAGO NA SPODNJI POVEZAVI:

IŠČEM ODŠTEVANEC



LIZA JE NABRALA 11 JURČKOV. NEKAJ JIH JE PODARILA BABICI. SEDAJ JIH PMA ŠE 5.

PREJ:  **POTEM:** 

KOLIKO JURČKOV JE LIZA PODARILA BABICI?
 $11 - 6 = 5$

LIZA JE BABICI PODARILA 6 JURČKOV.

GASPER JE NABIRAL KOSTANJE. KO JH JE IMEL V KOŠARI 18, SE JE SPOTPAKNE IN NEKAJ KOSTANJEV MU JE PADLO IZ KOŠARE. V KOŠARI JE OSTALO 13 KOSTANJEV.

PREJ:  **POTEM:** 

KOLIKO KOSTANJEV JE PADLO IZ KOŠARE?
 $18 - \quad = 15$

IZ KOŠARE SO PADLI \quad KOSTANJE.

<https://www.youtube.com/watch?v=65W1D6N1Hp4>

REŠI RAČUNSKO ZGODBICO.


SVOJE ZNANJE BOŠ DANES UTRDIL Z RAČUNANJEM V ZVEZKU ZA MATEMATIKO. ODPRI GA IN NAPIŠI NASLOV **VAJA**. PREPIŠI SPODNJE RAČUNE IN JIH IZRAČUNAJ.

RAČUNE, PRI KATERIH IŠČEMO NEZNANI ČLEN LAHKO ZAPIŠEMO NA DVA NAČINA.

1. S ČRTICO: $11 - \underline{\quad} = 5$

2. S KVADRATKOM: $11 - \square = 5$ V KARO ZVEZEK RIŠEMO KVADRATKE!

POMAGAŠ SI LAHKO Z
RAČUNOM ODŠTEVANJA.



$$12 - \underline{\quad} = 10$$

$$12 - 10 = 2$$

$$12 - \square = 10$$

$$13 - \square = 8$$

$$18 - \square = 9$$

$$14 - \square = 7$$

$$16 - \square = 14$$

$$20 - \square = 10$$

$$15 - \square = 15$$

$$7 - \square = 0$$

$$11 - \square = 8$$

$$13 - \square = 9$$

Starši, če je za katerega izmed otrok preveč, naj prepíše in izračuna samo 1 kupček.



[DODATNA NALOGA TE ČAKA NA SPLETU. POSKUSI!](#)

<https://wordwall.net/resource/6689392/i%c5%a1%c4%8dem-od%c5%a1tevanec>

<https://wordwall.net/resource/7742066/i%C5%A1%C4%8Dem-od%C5%A1tevanec>

ANGLEŠČINA

GLEJ, KAR JE PRIPRAVILA UČITELJICA ANJA

na povezavi : anjadobiobasketja.weebly.com

ŠPORT

IGRE Z BALONI IN ŽOGICAMI

DANES PA VAS ČAKAJO IGRE Z BALONOM IN RAZLIČNIMI ŽOGICAMI. OGLEJ SI NASLEDNJI POSNETEK. VAJE, KI JIH LAHKO IZVAJAŠ DOMA:

https://www.youtube.com/watch?v=ha_pvGHzhP4&feature=youtu.be&ab_channel=csodtube



IN ŠE DODATNE IGRE Z BALONOM:

https://www.youtube.com/watch?v=c756EuKaYzw&t=1s&ab_channel=%C5%A0portnodru%C5%A1voOLIMP



VAJE, KI JIH LAHKO IZVAJAŠ **ZUNAJ ALI DOMA:**

TISTI, KI JIM MRAZ NE PRIDE DO 'ŽIVEGA', PA LAHKO POSKUSITE Z VAJAMI METANJA ŽOGE V CILJ, KJER OTROCI VADIJO SVOJO NATANČNOST.

https://www.youtube.com/watch?v=1dOjuP8VtGI&feature=youtu.be&ab_channel=csodtube

