

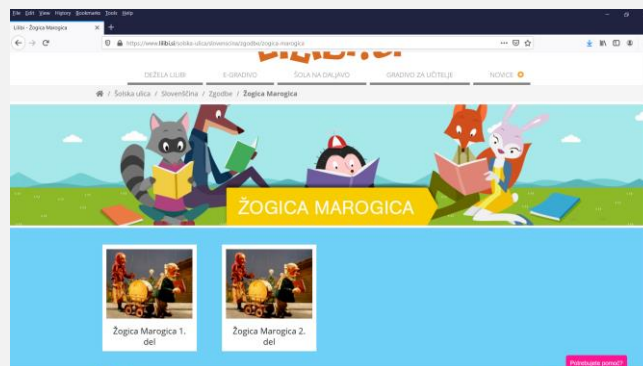
# TOREK, 12. 1. 2021

## SLOVENŠČINA

### ŽOGICA MAROGICA ( 2 URI)

DANES SI BOMO OGLEDALI LUTKOVNO PREDSTAVO Z NASLOVOM **ŽOGICA MAROGICA**.

V DEŽELI LILIBI/ŠOLSKA ULICA 1-2/SLOVENŠČINA/ZGODBE/ŽOGICA MAROGICA POIŠČI PREDSTAVO.



UDOBNO SE NAMESTI IN SE PRIPRAVI NA GLEDANJE. **OGLEJ SI OBA DELA.**

ČE STE KODO ZA DOSTOP DO LILIBI VSEBIN IZGUBILI, PREDSTAVO DOBITE TUKAJ: <https://www.youtube.com/watch?v=uMN3n6sQgmM>

PO GLEDANJU PREDSTAVE **USTNO ODGOVORI**. PROSI ODRASLEGA, NAJ TI ZASTAVI VPRAŠANJA:

- TI JE BILA LUTKOVNA PREDSTAVA VŠEČ? ZAKAJ?
- KAJ JE ZNAČILNO ZA LUTKOVNO PREDSTAVO?
- KDO VSE NASTOPA V PREDSTAVI?
- KAJ STA SI BABICA IN DEDEK PODARILA?
- KAJ STA SI PA ZARES ŽELELA?
- KDO JU NEKEGA DNE OBIŠČE?
- ZAKAJ ODIDE ŽOGICA MAROGICA Z ZMAJEM?
- KOGA VSE STA SREČALA NA POTI ISKANJA ŽOGICE MAROGICE?
- KAJ SO SE DEDEK, BABICA IN ŽOGICA POGOVARJALI PO KONCU LUTKOVNE PREDSTAVE?



V ZVEZEK ZA SLJ NAPIŠI Z RDEČO BARVICO NASLOV **ŽOGICA MAROGICA** IN NARIŠI STRAŠNEGA ZMAJA IZ LUTKOVNE PREDSTAVE.

# GLASBENA UMETNOST

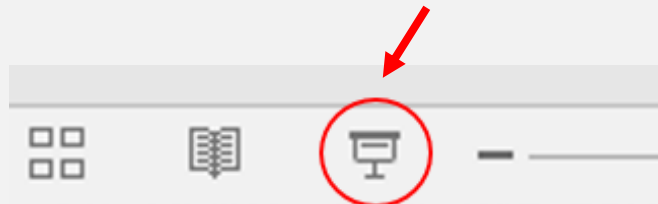
## ŽOGICA NOGICA

NAUČILI SE BOMO PESMICO IZ LUTKOVNE PREDSTAVE »ŽOGICA MAROGICA«.

OGLEJ SI PREDSTAVITEV.



KLIKNI NA ZNAK – CELOTNO DIAPROJEKCIJO:




# MATEMATIKA

## PREVERIM SVOJE ZNANJE

DANES BOŠ PREVERIL/A SVOJE ZNANJE V **DZ MATEMATIKA STRAN 94, 95.**

NALOGE POSKUSI REŠEVATI ČIMBOLJ SAMOSTOJNO.



**PREVERIM SVOJE ZNANJE** (JAKO) (DOBRO)

1. Z MNOGO BARVNO OBRKOŽI TELES, Z BEKOČI PA LICE.

2. FILIP JE NA SPREHODU PO GOZDU SREČAL NEKAJ GOBARJEV. POTEM KO JE SREČAL SE TOMAŽA, JE SREČAL SKUPAJ T3 LUDJI. KOLIKO GOBARJEV JE SREČAL PRED TOMAŽEM?

ODGOVOR: \_\_\_\_\_

3. FILIP JE V GOZDU NABRAL 12 GOB. 4 SO BILE LISIČKE, OSTALE GORE PA SO BILI JURČKI. KOLIKO JURČKOV JE NABRAL FILIP?

ODGOVOR: \_\_\_\_\_

4. REŠI:

$8+7=$ _____	$16- \quad =8$	$+4=14$
$12- \quad =4$	$\quad +3=18$	$20-10=$ _____
$\quad +2=17$	$17-2=$ _____	$\quad -3=7$
$\quad +6=14$	$19-9=$ _____	$9+ \quad =17$
$\quad -10=0$	$\quad +0=8$	$19-4=$ _____
$15-7=$ _____	$13- \quad =5$	$\quad +7=7$

ŠTEVILO REZULTATOV PRIKAŽI S PRIKAZOM Z VESTICAMI.

REZULTAT JE 15

REZULTAT JE 8

REZULTAT JE 0

REZULTAT JE 10

LEGENDA:  = 1 REZULTAT

PODROBNEJŠE V PRIKAZU Z VESTICAMI IN BILNAPISL.

1. KATERI REZULTAT SI NAPSAL NA VEČKRAT?

2. KATERIH REZULTATOV JE ENAKO MNOGO?

3. ALI SI REZULTAT 0 NAPSAL VEČKRAT KOT REZULTAT 15?

KO Z DELOM KONČAŠ, SKUPAJ S STARŠI PREGLEJ REŠITVE IN SI SVOJE ZNANJE OVREDNOTI S ČEBELČKOM. NAJDEŠ GA V PRILOGI (ZADNJA STRAN V DELOVNEM ZVEZKU).

**FOTOGRAFIRAJ OBE STRANI V DELOVNEM ZVEZKU IN MI FOTOGRAFIJO POŠLI PO ELEKTRONSKI POŠTI.**

### **DODATNA NALOGA**

KDOR ŽELI...LAHKO VADI RAČUNANJE DO 20 Z NEZNANIM ČLENOM S POMOČJO PPT PROJEKCIJE NA SPLETNI STRANI.



## **ŠPORT**

### **JOGA S PLIŠKOTOM**

POIŠČI SI DOVOLJ VELIKEGA PLIŠKOTA. NATO SI PRIPRAVI PROSTOR ZA IZVAJANJE JOGE. POTREBUJEŠ TUDI BLAZINO ZA NA TLA. KO IMAŠ VSE PRIPRAVLJENO, ODPRI SPODNJI POSNETEK. SLEDI VAJAM. VESELO 'JOGIRANJE'!

[https://www.youtube.com/watch?v=mFA5f-r8Yd4&t=533s&ab\\_channel=SandraJamnik](https://www.youtube.com/watch?v=mFA5f-r8Yd4&t=533s&ab_channel=SandraJamnik)

