

TOREK, 6. 4. 2021

SPOZNAVANJE OKOLJA

POMLAD - PONOVI

Spoznavanje okolja bomo imeli preko video srečanja.
O pomladi smo se v šoli naučili kar precej stvari. Danes bomo skupaj ponovili.

Pri sebi imej **delovni zvezek za SPO, zvezek za SPO** in **peresnico**.
Učiteljica ti bo poslala povezavo za zoom srečanje.



SLOVENŠČINA

PIKAPOLONICA

1. Najprej razmisli, kaj že veš o pikapolonici.
2. Glasno preberi opis pikapolonice v **DZ SLJ str. 34**.
3. Ustno odgovori na spodnja vprašanja.

Kateri deli sestavljajo telo pikapolonice?

Koliko nog ima pikapolonica?

Kako se imenujeta zgornji krili, ki pokrivata trup pikapolonice?

Kakšne barve sta pokrovki? Kaj je na pokrovkah? Kaj je pod pokrovkama?

Kako vzleti pikapolonica?


Kje živi?

S čim se hrani?

Kam samica odloži jajčeca? Kaj se razvije iz jajčec?

S čim se hranijo ličinke pikapolonice?

Kako pikapolonica preživi zimo?



4. Reši naloge na str. 35.

POZOR! Tiskarski škrat je malo ponagajal.

Pri 1. trditvi pri črki P je izpuščeno tri pare nog, zato dopolni odgovor.

Pravilno: P glavo, oprsje, zadek in tri pare nog.

Ali poznaš končno geslo?

PIKAPOLONICA


Pikapolonica je žuželka. Ima glavo, oprsje in zadek ter tri pare nog.

Na majhni črni glavi sta dve kratki tipalki. Trup pokrivate zgornji krili, imenovani pokrovi. Sta rdeče barve in imata sedem črnih pik. Pod pokrovkama sta prozorni krili. Pikapolonica vzleti tako, da najprej razpre pokrovki, nato pa razširi prozorni krili.

Živi na travnikih in vrtovih. Hrani se z listnimi ušmi.

Razvoj se začne tako, da samice odlóži jajčeca na spodnjo stran listov. Iz jajčec se razvijajo ličinke. Te se hranijo z listnimi ušmi.

Pikapolonica jeseni zleze pod drevesno skorjo ali pod liste in tam preživi zimo.



Kaj novega ti izvedel o pikapolonici? Ali je bilo besedišče zanimivo? Ali si razumel vse besede? Katerih besed nisi razumel?

1. Oglej si črke pred besedami. Ki proučiš, dopolniš prave.

1. Pikapolonica ima A. glavo in trup. P. glavo, oprsje, zadek. C. tri pare nog in glavo.	2. Iz glave ji rastejo B. dva rogova. D. dve dolgi tipalki. O. dve kratki tipalki.
3. Trup pikapolonice pokriva K. pokrovki in prozorni krili. C. pokrovki in kačis. E. prozorni krili in kačis.	4. Vzleti tako, da F. razpre pokrovki. R. razpre pokrovki in razširi prozorni krili. G. razširi prozorni krili.
5. Pikapolonica živi O. na travnikih in vrtovih. P. na travnikih in v gozdovih. I. na vrtovih in v vodi.	6. Prehranjuje se K. s sadicmi. J. z listi. V. z listnimi ušmi.
7. Razvoj se začne M. z mrazem. L. z žrjami. K. z jajčeci.	8. Zimo preživi N. na prostem. O. v brlogu. I. pod drevesno skorjo ali listjem.

Obrabene črke pu vstavi v okence.

Zgornji krili pri pikapolonici se imenujeta

1 2 3 4 5 6 7 8

Na sletu ali v knjigarni poskusi zamisliti a pikapolonici.

MATEMATIKA

PREVERIM SVOJE ZNANJE

Danes se boš preveril v znanju matematike.

Samostojno poskusi rešiti naloge v DZ na straneh 72 in 73.



PREVERIM SVOJE ZNANJE

1. Izračunaj vsoto.

$4 + 3 =$	$10 + 20 =$
$57 + 3 =$	$69 + 4 =$
$70 + 3 =$	$100 - 50 =$
$90 - 50 =$	$12 + 6 =$
$84 + 3 =$	$40 + 50 =$
$32 + 6 =$	$91 + 9 =$
$60 - 10 =$	$30 - 20 =$
$72 + 0 =$	$15 + 3 =$
$100 - 20 =$	$16 + 3 =$

2. Maja je stara 8 let, očeta je 30 let starejši od nje. Koliko je star oče?

Odgovor: _____

3. Kaja je prebrala 82 strani knjige. Tam pa 5 strani več. Koliko strani je prebral Tam?

Odgovor: _____


4. Maja, Tija in Hana so s karoli izmerile dolžino sobe. Merilne so zapobile.

Maja: 9 korakov
Tija: 7 korakov
Hana: 8 korakov

Obrabi vse dolžine, ki je daljša najdaljše korake.

Maja	Tija	Hana
------	------	------

5. Izračunaj vsoto. Koliko je vsota vseh števil.



6. Na presem tovarnjaku je 40 m cevi, na drugem pa 6 m več kot na prvem. Koliko metrov cevi je na drugem tovarnjaku?

Odgovor: _____

*DODATNA NALOGA ZA UČENCE, KI OBISKUJEJO DODATNI POUK: Rešite še str. 71: Reši, saj zmoreš!

ANGLEŠČINA

GLEJ, KAR JE PRIPRAVILA UČITELJICA ANJA

na povezavi : anjadobiobasketja.weebly.com

ŠPORT



Najbolj pomembno je, da si čimveč na svežem zraku.
Izkoristi lepo vreme in se odpravi z družino na sprehod, najbolje v naravo.

Na tej povezavi pa se lahko spet malo pozabavaš doma.

Če ti je bilo prejšnji teden ljubše jabolko, sedaj poskusi z banano.
Če te je zadnjič pritegnila banana, sedaj poskusi, kakšno je jabolko.

športne izbire:

<https://www.youtube.com/watch?v=ixxYwd4ZJ8g>

